


1. Vypočítej obvod a obsah kosodélníku, udělej náčrtek, ve kterém vyznačíš zadané údaje:

$$a = 10 \text{ cm}$$

$$b = 8 \text{ cm}$$

$$v_a = 6 \text{ cm}$$

N:



o =

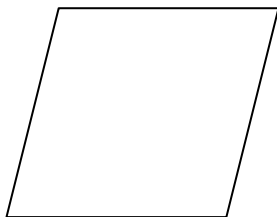
S =

2. Vypočítej obvod a obsah kosočtverce, udělej náčrtek, ve kterém vyznačíš zadané údaje:

$$a = 9 \text{ cm}$$

$$v_a = 7 \text{ cm}$$

N:



o =

S =


***** Vypočítej obvod a obsah kosodélníku, udělej náčrtek, ve kterém vyznačíš zadané údaje:

$$a = 6,8 \text{ cm}$$

$$b = 4,5 \text{ cm}$$

$$v_a = 40 \text{ mm}$$

N:



o =

S =