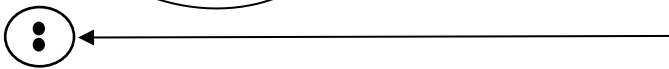
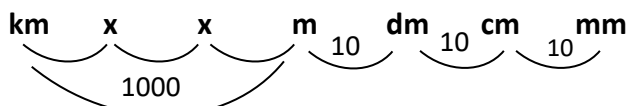



- k odevzdání do pátku 8. 1. 2021 do 16h



1. Převeď:

12,8 km (m) =

3600 cm (m) =

650 mm (cm) =

0,9 m (dm) =

89 dm (m) =

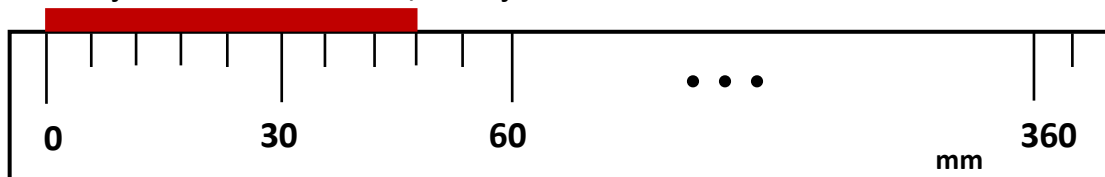
58,2 m (cm) =

5700 m (km) =

460 mm (dm) =

2. Zapiš názvy alespoň 5 délkových měřidel:

3. Urči údaje o délkovém měřidle, které je na obrázku:




a) stupnice v _____

b) 1 dílek _____

c) měřicí rozsah stupnice od _____ do _____

d) odchylka měření (polovina nejmenšího dílku stupnice) _____e) délka tyče; **d** = _____

4. Urči údaje o délkovém měřidle, které je na obrázku:



a) stupnice v _____

b) 1 dílek _____

c) měřicí rozsah stupnice od _____ do _____

d) odchylka měření (polovina nejmenšího dílku stupnice) _____e) délka tyče; **d** = _____